


1. Què són les muntanyes?

2. Completa les caselles en blanc amb els noms corresponents.



3. Respon aquestes preguntes:

- Què és una vall?

- I una plana?

4. Defineix els rius i explica els trams en que es divideix.

5. Completa aquestes definicions:

- a) Les parets de roca amb un pendent gairebé vertical són
- b) Els són entrades de mar a la terra.
- c) Les són part de terra voltades d'aigua pertot arreu.
- d) Les..... són extensions de terra voltades d'aigua per totes bandes menys per una, anomenada.....

6. Completa cada frase amb les paraules que hi ha a continuació:

desembocadura, curs alt, afluents, curs baix, deltes, cascades

El correspon al naixement del riu. L'aigua baixa molt depressa perquè ha de salvar grans desnivells i, de vegades forma

En el curs mitjà, el riu corre per terrenys més plans, l'aigua baixa més a poc a poc. En aquest tram, el riu pot rebre aigua d'altres rius més petits que hi desemboquen, els

El..... correspon a la del riu en el mar.

El terreny és molt pla i l'aigua té tan poca força que els materials s'acumulen i poden formar

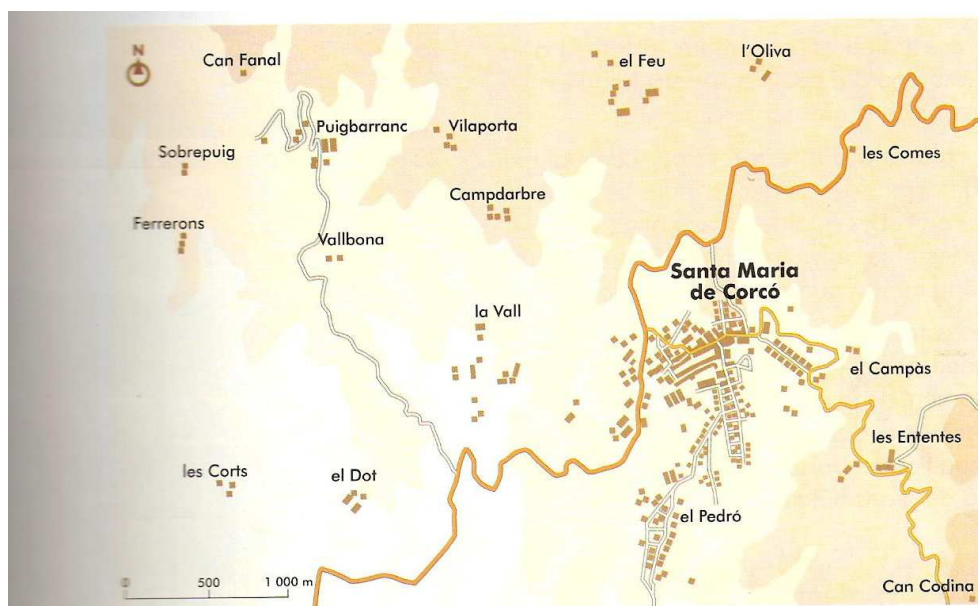
7. Defineix les paraules següents:

Població concentrada:

Població dispersa:

8. Diques què volen dir les paraules: masia i llogaret.

9. Observa el mapa i posa el nom de només un de cada.



- a) D'una masia _____
- b) D'un llogaret _____
- c) D'una població _____.

10. Defineix què és un poble i explica els tipus de pobles que hi ha.

11. Relaciona els canvis que han experimentat els pobles segons les explicacions següents:

Nous serveis

- S'han construït cases i s'han creat barris nous.

Millora transport

- S'han creat llocs de treball relacionats amb el turisme i la indústria.

Augment població

- S'han acostat els serveis com ara escoles, hospitals.

Nous llocs de treball

- Ha millorat el transport interurbà i s'han creat més carreteres.

12. Completa aquest text correctament amb les paraules del requadre.

mar – estrets – hotels – serveis – població – valls – port –
camps de conreu - comunicats

- Els pobles de muntanya estan situats a les _____. Els carrers són _____ i costeruts i les cases estan juntes per protegir-se del fred.
- els pobles de plana estan situats al pla envoltats de _____ i d'indústries. Gràcies al terreny pla estan més ben _____ i això ha originat un augment de la _____ .
- Els pobles de la costa estan situats al costat del _____ i n'hi ha que tenen _____. Actualment la majoria de la població es dedica als _____. Això ha modificat el paisatge litoral amb la construcció de grans _____ i apartaments.

13. Quines diferències hi ha entre un poble i una ciutat.

14. Completa l'esquema dels diferents barris d'una ciutat.



Barri antic - Polígon industrial - Eixample - Barri residencial

15. La perifèria de la ciutat està formada pels barris que hi ha als afores de la ciutat. Digues quins són i explica'ls.

16. Explica algunes característiques dels diversos transports públics urbans.

17. Completa amb SÍ o NO segons les característiques dels transports públics.

	Autobús	Metro	Taxi
És un transport subterrani.			
S'ha de pagar un bitllet.			
Té un recorregut fix amb parades.			
Hi poden viatjar moltes persones.			
Està organitzat en línies.			

18. Sota terra, a les ciutats hi ha una sèrie d'instal·lacions que proporcionen uns serveis necessaris. Digues quins són i explica'ls.

19. Posa el nom de la xarxa que correspon a cada un d'aquests serveis:

Aigua residual: _____

Llum: _____

Aigua potable: _____

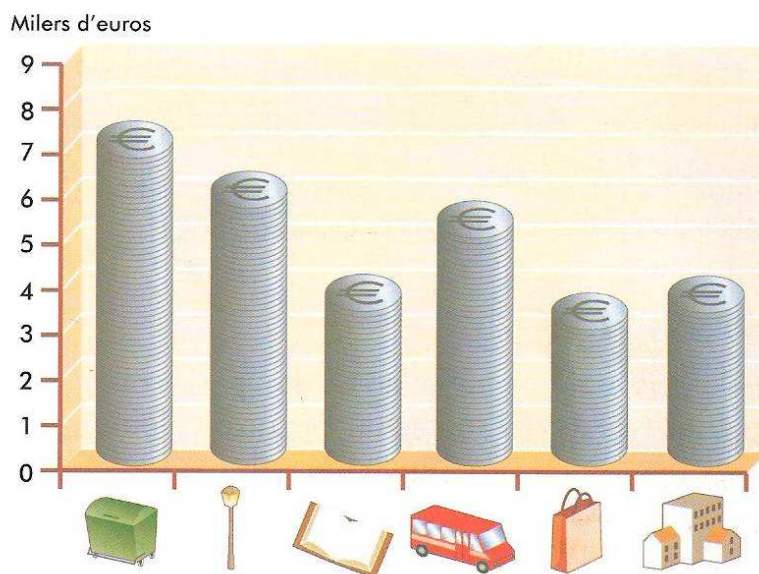
Telèfon: _____

Televisió per cable: _____

Gas : _____

20. L'ajuntament és l'encarregat del govern del municipi. Els serveis que depenen d'un ajuntament s'anomenen serveis municipals. Digues quins són i explica'ls.

21. Observa el gràfic de barres i contesta les preguntes següents:



- En quins dos serveis gasta més diners l'ajuntament? _____
- En quins dos serveis gasta menys diners l'ajuntament? _____
- Quants milers d'euros gasta en el servei de transports públics? _____
- I en el servei d'educació, cultura i esports? _____

22. Completa les definicions següents:

ple municipal – regidors – ajuntament – alcalde

- a) Màxima autoritat d'un municipi: _____.
- b) Govern del municipi: _____.
- c) Reunió periòdica dels regidors per prendre decisions: _____.
- d) Responsables de l'organització dels serveis municipals: _____.

23. Completa aquestes frases al teu quadern amb les paraules adequades:

vot 18 anys eleccions 4 anys

- a) Les _____ són un sistema per escollir el govern d'una localitat.
- b) Mitjançant el _____ personal s'escullen els representants que formaran el govern d'una localitat.
- c) Els veïns d'un municipi majors de _____ poden votar en unes eleccions municipals.
- d) Les eleccions s'hi convoquen cada _____ i s'hi presenten candidats de diferents partits o associacions polítiques.

24. Fes un programa electoral com si et presentessis per alcalde o alcaldessa en el teu poble.
Tingues en compte els diferents serveis que hi ha en un poble.

25. Explica què són les indústries pesants.

26. Enumera quines 3 indústries formen la indústria pesant.

27. Explica què són les indústries de béns de consum.

28. Enumera quines 4 indústries formen la indústries de béns de consum.

29. Classifica aquests productes segons el tipus d'indústria que els elabora.

bicicleta – formatge – televisió – detergent – pantalons – oli
mitjons – cotxe – telèfon – pintura

Alimentària	Metal·lúrgica	Tèxtil	Química	Electrònica

30. L'energia elèctrica s'obté principalment de dues fonts. Digues quines són i explica-les.

31. Completa aquestes frases amb el nom de l'energia corresponent:

eòlica – solar – nuclear – hidroelèctrica

- a) L'energia _____ s'obté de l'escalfor i la llum del sol.
- b) L'energia _____ s'obté de la força del vent.
- c) L'energia _____ s'obté dels salts d'aigua.
- d) L'energia _____ s'obté de l'urani.

32. El comerç consisteix a comprar i vendre productes, digues quines són les classes de comerciants que hi ha i explica-les.

33. Classifica els diferents mitjans de transports en els seus dos grans grups: (tingues en compte que hi ha transports que poden tenir les dues utilitats).

autobús – vaixell – camió – tren – avió – moto – taxi – furgoneta – helicòpter - metro

Mercaderies	Passatgers

34. Segons la via de comunicació utilitzada, com poden ser els mitjans de transport? Explica cada un d'ells. Posa un exemple de cada un.

35. Enumera quins són els mitjans de comunicació personal.

36. Explica cada un dels mitjans de comunicació personal.

37. Enumera quins són els mitjans de comunicació col·lectius.

38. Explica cada un dels mitjans de comunicació col·lectius.

39. Completa les frases següents amb les paraules del requadre:

xarxa – telefòniques – pàgines web – internet

- a. _____ és una _____ mundial d'ordinadors connectats entre ells a través de les línies _____.
- b. Les empreses i altres institucions creen _____ per oferir els seus serveis.

40. Anota el nom d'un mitjà de comunicació en cada cas:

- a. Mitjà de comunicació oral: _____.
- b. Surt cada dia i hi trobem diversos tipus d'informació _____.
- c. Mitjà de comunicació audiovisual _____.
- d. Acostuma a sortir cada setmana o cada mes _____.

41. Explica que volen dir les paraules avantpassats i descendents. Posa un exemple de cada un.

Avantpassats: _____
_____.

Exemple: _____.

Descendents: _____
_____.

Exemple: _____.

42. Digues quines són les etapes de la vida i explica cada una d'elles.

43. Redacta un petit escrit dels fets més importants de la teva vida i dibuixa el teu eix cronològic.

44. Completa les següents frases:

- La germana del teu pare és la teva _____.
- El pare del teu pare és el teu _____.
- Els fills del teus tiets són els teus _____.
- El teu besavi és el _____ del teu avi.
- Els fills dels teus fills són els teus _____.

45. Completa les frases següents:

senzilles – gremis – eines – productes – artesans

Els.....elaboraven els seus.....manualment o bé ajudats per
..... i màquines molt.....i s'agrupaven en.....

46. Completa aquest quadre posant una creu (X) relacionant el concepte amb el tipus de treball a què correspon:

	Treball artesà	Treball industrial
Treball manual		
Elaboració ràpida		
Treball en cadena		
Obrador		
Elaboració lenta		
Fàbrica		
Màquines		
Gremi		

47. Quines d'aquestes tres definicions és més correcte per definir el concepte de gremi. Indica-ho amb una creu a dins del quadre corresponent.

- Eren carrers on els botiguers posaven les seves parades de diferents oficis per formar un mercat.
- Els artesans d'un mateix ofici s'agrupaven i s'establien en un mateix carrer que adoptava el nom del seu ofici.
- Eren els oficis que antigament es feien de manera artesanal com per exemple, els terrissaires, argenters,...

48. Digues quines són les principals característiques del treball industrial.

49. Digues quines tres característiques han comportat les noves tecnologies al treball.

Millores.....
Progressos.....
Canvis.....

50. Explica què és el teletreball i posa dos exemples.

51. Classifica els productes següents segons si són artesans o industrials.



pa – oli – torradora – panera – formatge – mel – aixeta – cotxe – batedora - galetes

Productes artesans	Productes industrials

52. Completa les frases següents amb les paraules del requadre:

industrial – obradors – gremis – noves tecnologies – més producció – teletreball – artesà – artesans – ofici – fàbriques

- a. El treball abans era....., i avui dia el treball és.....
- b. El treball artesà tenia lloc als.....
- c. El duien a terme els....., que tenien un.....i s'agrupaven en.....
- d. El treball industrial acostuma a tenir lloc a les.....
- e. En el treball industrial s'hi apliquen..... que permeten..... i

- 53. Anota les raons per les quals són més cares unes sabates fetes a mà que unes elaborades en una fàbrica.**
- 54. Totes les localitats celebren festes i diades importants. Digues quins són els orígens d'aquestes festes.**
- 55. Hi ha moltes tradicions lligades a les festes de l'any. Posa 4 exemples d'aquestes festes i digues quan es celebren.**
- 56. Explica alguna característica sobre les festes que has posat en l'exercici anterior.**
- 57. Digues que volen dir els següents termes:**
-  Data fixa:
-  Data variable:

58. Posa dos exemples de festes que es celebren amb data fixa i dos exemples de festes que es celebren amb data variable.

59. Relaciona els següents elements de les festes amb les seves característiques:

Els balls tradicionals...	...ballen al so de les gralles i els timbals.
Els gegants i els capgrossos,...	...i les rues animen les festes i tothom hi participa.
Les colles castelleres...	...i les gimcanes també són característiques d'aquestes festes.
Les cercaviles...	...la sardana, el ball de gitanes, el ball de bastons,...
Activitats culturals, esportives...	...aixequen castells i pilars acompanyades per la música de les gralles.

60. Completa les frases següents amb les paraules del requadre.

cases – emmurallats – esglésies – carrers – barri antic

- La part més antiga d'un poble o d'una ciutat s'anomena..... i és el centre històric.
- El.....eren molt estrets i estaven empedrats.
- Els pobles estaven.....per tenir més protecció.
- Les....., són diferents segons l'època en què es van edificar.

61. Amb el pas del temps les formes han anat canviant. Digues característiques d'abans i d'ara de:

	Abans	Ara
L'aigua		
Enllumenat dels carrers		
Transports		
Comerç		